


**1** Numa escola da Covilhã, os alunos registaram o estado do tempo numa quarta-feira.





Quarta-feira

**1.1** - Achas que essa quarta-feira correspondia a um dia de verão ou de inverno? Justifica a tua escolha.

\_\_\_\_\_  
\_\_\_\_\_



**2** As imagens que se seguem representam as quatro estações do ano. Consegues identificar o nome de cada uma?



**3** Observa e descreve o que está a acontecer em cada imagem.



**1** \_\_\_\_\_  
**2** \_\_\_\_\_  
**3** \_\_\_\_\_

