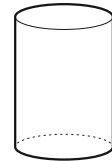
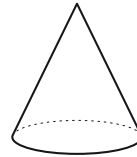
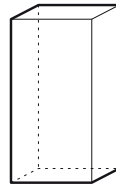
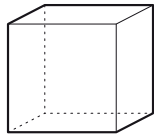


1. Completa a seguinte tabela com as informações de cada sólido geométrico e depois pinta de verde os que só têm superfícies planas e de amarelo os que têm superfícies curvas.



Nome	_____	_____	_____	_____
Nº Faces	_____	_____	_____	_____
Nº Arestas	_____	_____	_____	_____
Nº Vértices	_____	_____	_____	_____
Forma das faces	_____	_____	_____	_____

2. Na sopa de letras, encontra os nomes dos seguintes sólidos geométricos: esfera, cone, cubo, pirâmide, cilindro.

N	A	H	D	E	S	F	E	R	A	S	N	G	D	F	I
C	I	L	I	N	D	R	O	L	Q	E	L	S	I	N	D
B	W	B	M	R	W	I	E	Z	U	N	Z	D	Y	P	E
E	R	X	O	O	A	Z	R	S	A	A	D	Y	D	E	P
X	B	Q	L	F	N	R	A	I	Q	O	D	I	Q	O	I
U	Q	O	E	Y	R	O	F	A	D	O	H	Z	A	S	R
F	U	R	Q	H	F	R	C	L	R	Y	Z	E	D	A	Â
L	C	D	U	F	I	Z	F	P	O	P	Y	R	M	I	M
R	O	L	Z	Y	P	N	C	U	B	O	O	S	A	M	I
E	N	D	U	R	A	O	X	F	I	F	S	U	L	R	D
N	E	Z	A	N	F	U	F	P	G	E	G	P	I	F	E
U	P	A	W	X	I	F	D	M	A	I	A	E	E	O	N

