


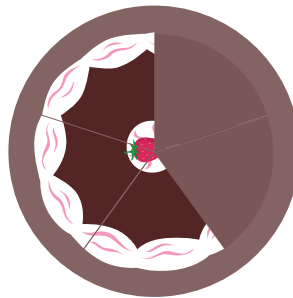
Saber partilhar é muito bonito, mas para isso é importante saber dividir! Na atividade seguinte vais colocar à prova a tua aptidão com as divisões, ligando a fração à sua leitura e respetiva representação.

Três Quintos



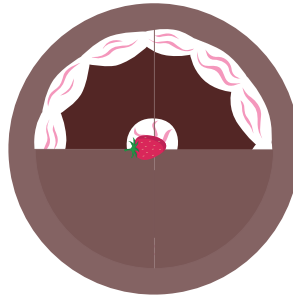
$$\frac{1}{3}$$

Um terço




$$\frac{3}{5}$$

Um meio



$$\frac{2}{4}$$

Dois Quartos



$$\frac{1}{2}$$

