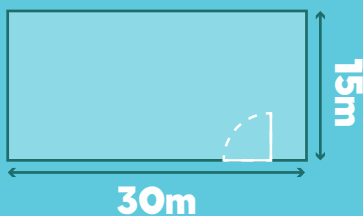


O pai do Vasco ofereceu-se para pintar as paredes da escola. A única coisa que pediu foi que lhe dissessemos o perímetro e a área de cada sala. Consegues ajudar o pai do Vasco a saber as dimensões?



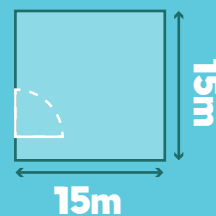
Sala 1



Perímetro=

Área=

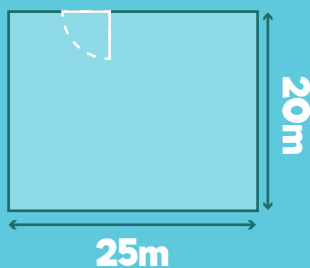
Sala 2



Perímetro=

Área=

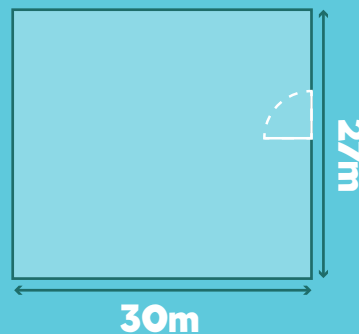
Sala 3



Perímetro=

Área=

Sala 4



Perímetro=

Área=

